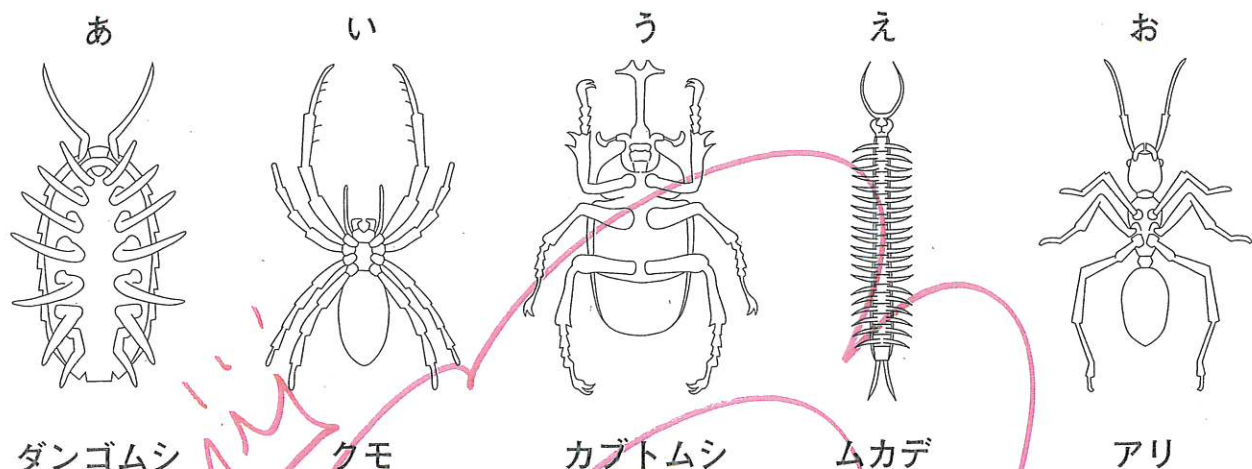


★めあて. ぶり返り. 日付がしっかり書けています!

① こん虫の体のつくりについて、次の問題に答えなさい。  
次の図は、身の回りに見られるいろいろな生き物を表したものです。これを見て、あとの問題に答えなさい。



(1) 図のあ～おのうち、こん虫であるものは、どれですか。正しいものをあ～おからすべて選んで答えなさい。

あ ① ② ③

(2) (1)で選んだものがこん虫である理由を、体つくりをもとに説明しなさい。

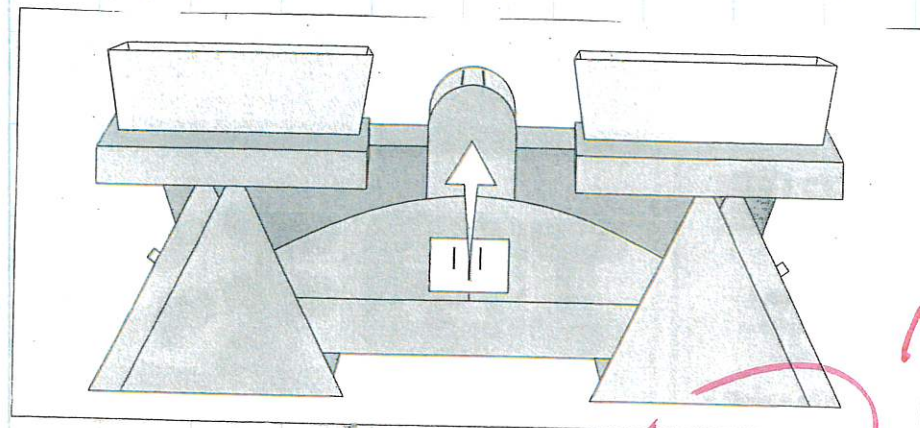
こー虫はあしがらぼーでたまむおほりできている

(3) ちょうのふつにこん虫の育ち方のじゅんじゆとして正しいものを、次の1～4から1つ選んで番号に○をつけなさい。

- 1 ちょう虫 → たまご → さなぎ → 成虫
- 2 ちょう虫 → さなぎ → たまご → 成虫
- 3 たまご → さなぎ → ちょう虫 → 成虫
- ④ たまご → ちょう虫 → さなぎ → 成虫

★お家の人があつた問題真に  
ちやせんするのむいいですね!!

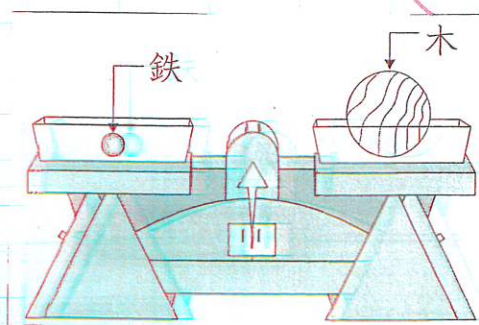
ものと重さについて、次の問題に答えなさい。



(1) ものの重さをくらべる図1の道具を何とよみますか。その道具の名前を書きなさい。

こーびん

(2) 鉄30gと木が図2のようにつけられたとき、木の重さについて、正しいものをあとの1～3から1つ選んで、番号に○をつけなさい。



① 30gより軽い

② 30g

③ 30gより重い

4年生